

۱ اعداد زیر را به رقم و حروف بنویس .

..... ۴۰۵۰

..... ۵۸۰۰

..... شش هزار و چهل و یک ..... هزار و سیصد و سه


۲ علی آقا کشاورز است او زمین مستطیل شکل را به ۸ قسمت مساوی تقسیم کرد. در ۳ قسمت گندم، در ۲ قسمت جو و در ۱ قسمت سبزی کاشته است. چه مقدار از زمین بدون محصول است ؟

۳ یک زمین کشاورزی مستطیل را به دو قسمت مساوی تقسیم کردیم. در نیمی از زمین سیب زمینی کاشتیم و نیم دیگر را به ۴ قسمت مساوی تقسیم کردیم و در دو قسمت آن پیاز کاشتیم. شکل زمین را بکشید و به سوالات پاسخ دهید:

..... قسمت از ..... قسمت مساوی را پیاز کاشتیم .

..... قسمت از ..... قسمت مساوی بدون محصول است .

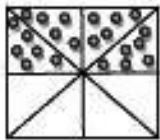
۴ با رسم شکل حاصل جمع و تفریق ها را به دست آورید.



$$3141 + 2134 =$$

$$7046 - 3230 =$$

۵ کسری را که هر شکل نشان می دهد بنویس و به همان اندازه مستطیل رنگ کن .



.....

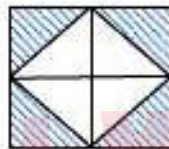
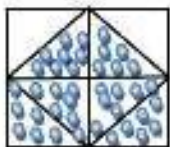


.....

۶ روی محور کسر مورد نظر را نشان بده .



۷ برای هر شکل یک کسر مناسب بنویس .



۸ جمع و تفریق هارا به واحد خواسته شده تبدیل کن .

به تومان ..... ریال  $۲۲۰۰ = ۲۶۲۰ \text{ ریال} + ۴۵۸۰ \text{ ریال}$

به ریال ..... تومان  $۶۴۰ = ۱۰۲ \text{ تومان} + ۵۳۸ \text{ تومان}$

۹ علامت مناسب  $> = <$  بگذار .

$۷۱۵۳ \square ۷۵۳۱$

$۵۱۱۱ \square$  پنج هزار و یازده

$۸۰۷۸ \square ۷۰۸۷$